

# 111 年國中教育會考 (補考) 社會科試題本

**請不要翻到次頁！**

**讀完本頁的說明，聽從監試委員的指示才開始作答！**

※ 請先確認你的答案卡、准考證與座位號碼是否一致無誤。

請閱讀以下測驗作答說明：

測驗說明：

這是國中教育會考(補考)社會科試題本，試題本採雙面印刷，共 14 頁，有 54 題選擇題，每題都只有一個正確或最佳的答案。測驗時間從 **08:30** 到 **09:40**，共 **70** 分鐘。作答開始與結束請聽從監試委員的指示。

注意事項：

1. 所有試題均為四選一的選擇題，答錯不倒扣。
2. 試題中所附圖形，如有附上比例尺，以比例尺為依據作答；若無比例尺，則該圖僅作為參考，不代表實際大小。
3. 可利用試題本中空白部分計算，切勿在答案卡上計算。
4. 依試場規則規定，答案卡上不得書寫姓名座號，也不得作任何標記。故意汙損答案卡、損壞試題本，或在答案卡上顯示自己身分者，該科考試不予計列等級。

作答方式：

請依照題意從四個選項中選出一個正確或最佳的答案，並用 **2B** 鉛筆在答案卡上相應的位置畫記，請務必將選項塗黑、塗滿。如果需要修改答案，請使用橡皮擦擦拭乾淨，重新塗黑答案。例如答案為 **B**，則將 **Ⓑ** 選項塗黑、塗滿，即：**Ⓐ ● Ⓒ Ⓓ**

以下為錯誤的畫記方式，可能導致電腦無法正確判讀。如：

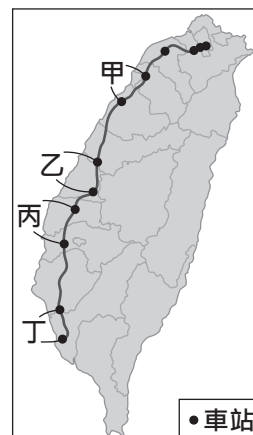
- Ⓐ Ⓑ Ⓒ Ⓓ — 未將選項塗滿
- Ⓐ Ⓑ Ⓒ Ⓓ — 未將選項塗黑
- Ⓐ ● Ⓒ Ⓓ — 未擦拭乾淨
- Ⓐ ● Ⓑ Ⓒ Ⓓ — 塗出選項外
- Ⓐ ● ● Ⓒ Ⓓ — 同時塗兩個選項

請聽到鐘聲響起，於試題本右上角方格內填寫准考證末兩碼，再翻頁作答

一、單題：(1~43題)

1. 「北京市政府頒布禁令，規定在中國北方燃煤供暖期間(2017年11月15日至隔年3月15日)，除了國家重點工程外，停止各類道路、水利等土石工程及房屋拆遷施工。」上述報導中的禁令最可能是為了下列何者？

- (A)防止土石流的發生  
 (B)減少水資源使用量  
 (C)減緩地層下陷速度  
 (D)避免空氣汙染加劇



圖(一)

2. 圖(一)為臺灣高速鐵路路線分布圖，甲、乙、丙、丁四個路段中，何者因為經過的地區丘陵地形發達，而有較多的隧道？

- (A)甲 (B)乙  
 (C)丙 (D)丁

3. 非洲的綠色長城計畫，規劃種植一道寬15公里，長約7,700公里的樹牆，其分布位置如圖(二)。該計畫的主要目的最可能是下列何者？

- (A)防止沙漠範圍持續向南擴張  
 (B)阻隔西亞難民非法進入非洲  
 (C)有利當地進行傳統游耕活動  
 (D)作為莽原區動物遷移的南界



圖(二)

4. 表(一)為臺商自1988年至2013年在某國投資的前五大產業別，並依據投資金額占總額的比例由大至小排序。根據表中資訊判斷，該國最可能是下列何者？

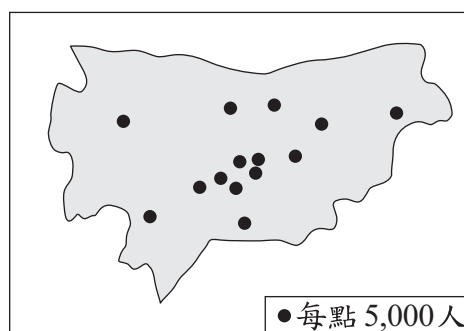
- (A)日本  
 (B)越南  
 (C)紐西蘭  
 (D)科威特

表(一)

排序	產業別	投資金額占總額比例(%)
1	加工業、製造業	83.04
2	不動產(房屋、土地等)	6.05
3	建築	5.26
4	農、林、水產	2.41
5	藝術、娛樂服務業	0.88

5. 宜蘭縣羅東鎮的人口數與雲林縣虎尾鎮相當，但面積僅為虎尾鎮的六分之一。圖(三)為虎尾鎮的人口分布圖，若以相同的地圖比例尺與圖例繪製羅東鎮的人口分布圖，則此二圖最大的差異為下列何者？

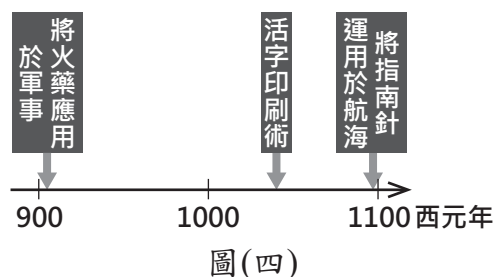
- (A)點的數量較少 (B)點的數量較多  
 (C)點的分布較稀疏 (D)點的分布較密集



圖(三)

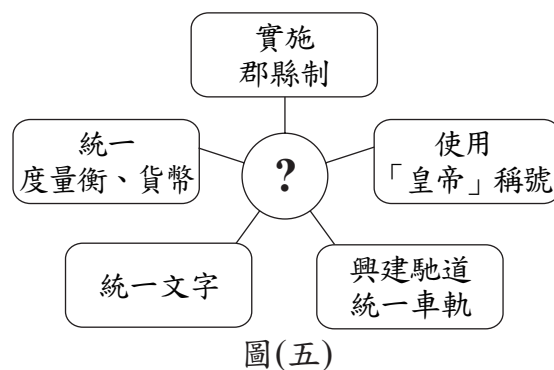
6. 圖(四)是阿志在課堂報告時所使用的圖片，此一圖片的主題最可能是下列何者？

- (A)埃及古文明的興盛
- (B)古羅馬的文化成就
- (C)影響世界的中國發明
- (D)工業革命在英國的開展



7. 小惠在筆記上畫了一幅關係圖，其中「？」是筆記的主題，如圖(五)所示。根據內容判斷，此主題應是下列何者？

- (A)朝貢貿易的推動
- (B)中央集權的奠基
- (C)科舉制度的建立
- (D)九品官人法的實施



8. 以下是某旅遊雜誌的介紹：「菩提迦耶的大菩提寺興建於西元前三世紀，原為釋迦牟尼悟道之處。十三世紀時，伊斯蘭軍隊攻占此地，大肆破壞。直到十九世紀後期，英國殖民政府官員透過古代中國僧侶的遊歷著作，以及相關史料，發掘被掩埋的文物，復原大菩提寺的面貌。」上述旅遊雜誌介紹的地點最可能位於下列何處？

- (A)緬甸
- (B)印度
- (C)埃及
- (D)泰國

9. 表(二)呈現某一時期亞洲重要商品的交易情況，根據內容判斷，此一表格最適合用來說明下列何者？

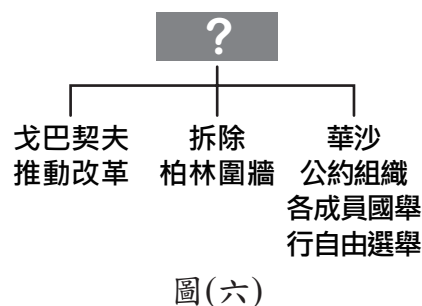
- (A)亞歷山大東征的影響
- (B)唐宋時期市舶司的設置
- (C)蒙古帝國下的歐亞交流
- (D)大航海時代的國際貿易

表(二)

商品	產地	採購者(商人)所屬地區
香料	南亞、東南亞	中國、歐洲
生絲及絲織品	中國	日本、葡萄牙、西班牙、荷蘭
瓷器	中國	日本、葡萄牙、西班牙、荷蘭

10. 圖(六)中，「？」是老師上課講解的主題，根據圖中內容判斷，此主題最可能是下列何者？

- (A)冷戰時代的結束
- (B)第三世界的形成
- (C)以阿衝突的影響
- (D)法西斯主義的潰敗



11. 阿泉在餐廳外等候用餐時，看見店門口張貼一張「禁止寵物入內，導盲犬除外」的貼紙，他疑惑視障者應該看不見貼紙，於是好奇地向店家詢問張貼貼紙的用意，店員說明這是為了提醒其他客人，店內出現的狗是正在執行勤務的導盲犬，要請客人注意不要打擾牠。上述店家的作為主要展現下列何項素養？
- (A)增進公共利益 (B)實踐公平正義  
(C)重視環境倫理 (D)維護善良風俗

12. 我國某次直轄市市長選舉登記日第一天，大批媒體記者守候在選舉委員會外等待採訪參選人時，看見某政黨的黨主席前來登記。當他依規定辦理繳納參選保證金二百萬元的手續時，突然在媒體前表示自己沒有二百萬元，他要抗議這項規定讓選舉變成有錢人的遊戲，政府應該有所改革。根據上述內容判斷，該黨主席所提訴求的主要理由，最可能為下列何者？

- (A)該項規定違反落實公平投票的平等原則  
(B)該項規定有助促進不同社會階級的流動  
(C)人民的人身自由受選舉法規侵害  
(D)人民的參政機會受貧富差異影響

 人身自由：人民身體的自由。

13. 我國開放部分小規模經營的乳牛業者可僱用外籍移工，只要飼養80頭以上的乳牛，且聘僱的本國籍勞工達一定人數，即可依法僱用外籍移工，並以一位為限。由於此種乳牛業者多為家庭成員共同經營，因此雇主本人、雇主的配偶、雇主的直系血親、雇主丈夫的父母、雇主兒子的配偶，只要符合相關規定者，皆可放寬認定計入本國籍勞工人數。根據上述內容判斷，下列雇主的哪一位親屬最可能符合放寬認定的資格？
- (A)伯父 (B)養母 (C)哥哥 (D)姑姑

14. 阿章以右列二則示例，說明《憲法》中關於自由權的概念。根據二則示例的共同意涵判斷，下列何者最可能是阿章所要說明的概念？

- (A)侵權行為應負損害賠償責任  
(B)政府可依法律限制人民權利  
(C)犯罪處罰須符合罪刑法定原則  
(D)契約行為應依循契約自由原則

- 人民有飼養寵物的自由，但飼主若放任寵物影響鄰居安全，可能會遭主管機關處以罰鍰。
- 人民有言論自由，但若其言論涉及侮辱他人人格，可能會觸犯公然侮辱罪。

15. 和平社區的居民想藉由提升民眾活動中心使用率的方式，爭取成為模範社區，於是決定募款購置電腦網路設備，作為社區青少年休閒的場所，並開辦各項有助聯繫情感的活動，以提升居民的歸屬感。上述居民的作法最能表現出哪一種概念？
- (A)加強社區規範 (B)維持社會秩序  
(C)凝聚社區意識 (D)增加社會福利

16. 「幾百年來，此一長條狀的海域是印度與中國之間最直接的航道，也是溝通太平洋與印度洋航運的樞紐，目前全世界約有五分之一的海運貿易及三分之一的油輪由此通過。」下列哪一港口都市因為是該海域的重要門戶而快速發展？
- (A) 香港  
 (B) 高雄  
 (C) 新加坡  
 (D) 馬尼拉



圖(七)

17. 中、高緯度地區，高聳的山地常因地形崎嶇、交通不便、氣候嚴寒等因素，而造成人口密度較低。上述地理現象最適合用來說明圖(七)中甲、乙、丙、丁哪一地區？
- (A) 甲                      (B) 乙  
 (C) 丙                      (D) 丁

18. 表(三)為中國在不同時間提出的人口政策，以因應各階段之需。其中哪一年提出的政策，其目標之一是為了因應老年人口比例逐漸上升所造成的高齡化問題？
- (A) 甲                      (B) 乙  
 (C) 丙                      (D) 丁

表(三)

代號	時間(年)	政策
甲	1949	鼓勵生育
乙	1960	提倡晚婚
丙	1979	一胎化
丁	2015	開放二胎

19. 「這次的夏季奧運，舉辦城市很接近臺灣直線穿越地球球心所到達的地表。面對中華代表隊史上移動距離最長的飛行，以及11個小時的時差調適，如何讓選手的體能保持在最佳狀態，是亟待解決的問題。」上述奧運舉辦城市應位在下列何地？
- (A) 非洲                      (B) 歐洲  
 (C) 北美洲                      (D) 南美洲

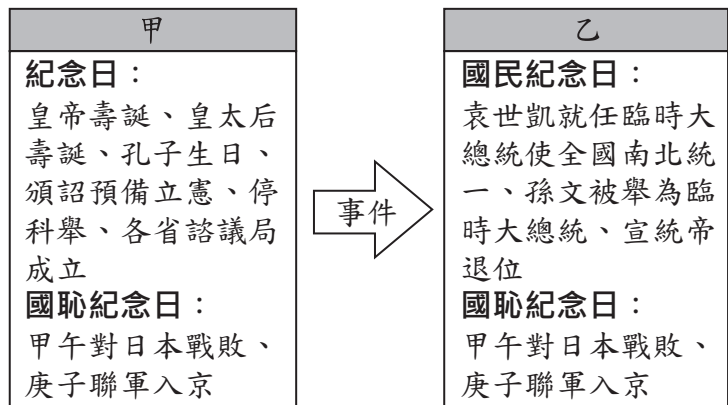
20. 表(四)為1981至2010年臺灣部分地區1~4月、5~6月、7~9月、10~12月四個時期的降雨量占全年總降雨量比例的統計資料。根據臺灣的降雨季節分布特性判斷，表中甲、乙、丙、丁何者為5~6月的資料？
- (A) 甲                      (B) 乙  
 (C) 丙                      (D) 丁

表(四)

地區	年雨量(毫米)	各時期降雨量占全年降雨量的比例(%)			
		甲	乙	丙	丁
高雄	1884.95	4.1	7.7	32.5	55.7
臺中	1773.00	3.8	20.8	31.7	43.7
臺北	2405.12	12.7	25.4	23.3	38.6
花蓮	2176.89	26.8	15.1	19.2	38.9

21. 「自我們從澎湖遷移到福爾摩沙之後，獲得新港社人的承諾，以十五匹布買得土地。該區域內有河川，土壤肥沃，野獸群生，又有沼澤，多魚類棲息。因此，依據1625年1月15日之決議，我們決定將商館搬遷至此處，建立市街。」上文的記載最可能與下列何者有關？
- (A) 鄭氏勢力以臺灣為主要根據地  
 (B) 西班牙人在臺灣北部建立城堡  
 (C) 清帝國將臺灣納入版圖設立臺灣府  
 (D) 荷蘭聯合東印度公司在大員的經營

22. 圖(八)中甲、乙分別為兩個時期官方所頒行的學校行事曆，每逢表中所列的紀念日，學校須為學生講述相關歷史，來養成愛國心。由甲到乙的轉變，主要受到下列哪一事件的影響？



圖(八)

- (A) 辛亥革命  
 (B) 戊戌變法  
 (C) 《馬關條約》簽訂  
 (D) 中華人民共和國成立

23. 1919年，中國以戰勝國身分出席巴黎和會，並在會中主張：「戰敗國過去使用威嚇手段或武力，從中國獲得的領土與權利，應歸還中國。」會後中國根據前述要求，與戰敗的兩個國家另訂平等條約。此兩個國家最可能是下列何者？
- (A) 德國、奧國  
 (B) 英國、法國  
 (C) 美國、英國  
 (D) 日本、德國

24. 以下是某部歷史劇的情節：「這年元旦，臺灣民眾黨創辦人來到臺北市拜訪張家大少爺，兩人談話內容著重在如何反抗殖民政府，更說到最近總督府打算放寬鴉片管制政策。張家大少爺心生妙計，建議利用郵局下班前五分鐘去拍電報，向這個組織告發此事，讓他們派員來調查。」若劇情符合史實，則上述的「這個組織」，最可能是下列何者？
- (A) 聯合國  
 (B) 國際聯盟  
 (C) 歐洲聯盟  
 (D) 北大西洋公約組織

25. 小華將日常生活中看見的違規情形，與其可能違反的相關法律，整理如表(五)。根據表中內容判斷，小華所列出的配對項目何者最適當？

表(五)

項目	違規情形	適用法律
甲	施工工地誠徵夜班工讀生兩名，年齡不拘。	《民法》
乙	網路書店的原版外文書售出後，概不退換。	《著作權法》
丙	公司因訂單暴增、業務繁忙，要求員工不得申請育嬰假。	《家庭暴力防治法》
丁	學校棒球社男生可優先加入，女生加入須經過老師體檢。	《性別平等教育法》

- (A)甲 (B)乙  
(C)丙 (D)丁

26. 表(六)為四家律師事務所某年的業務資料，小古為其中一家事務所的員工，且該事務所當年接受的委託業務中，能以調解方式處理的件數總計為50件。根據表中資料判斷，小古最可能在哪一家事務所工作？

表(六)

律師事務所	告訴乃論刑事案件	非告訴乃論刑事案件	民事事件
甲	20	20	10
乙	30	20	10
丙	30	25	25
丁	20	40	30

單位：件

- (A)甲  
(B)乙  
(C)丙  
(D)丁

27. 近來社會上出現飼養螞蟻當觀賞寵物的新興活動，於是小廖從國外購入蟻后、工蟻等活體進行銷售。但由於小廖自國外輸入外來種螞蟻的行為，已涉嫌擅自輸入有害生物種，違反相關法律規定，檢察官得知後，蒐集相關事證依法將他起訴。下列何者是小廖在上述程序後最可能面臨的情況？

- (A)依法被處以罰鍰處分  
(B)遭法官判處有期徒刑  
(C)在法庭上和緩，負責賠償所有損失  
(D)不服判決結果，繼續提出行政救濟

28. 表(七)是阿布分別在不同日期看到的美元兌換價格。根據表中內容判斷，比較2017年1月5日與2018年1月5日，其匯率變化最可能造成下列何種影響？

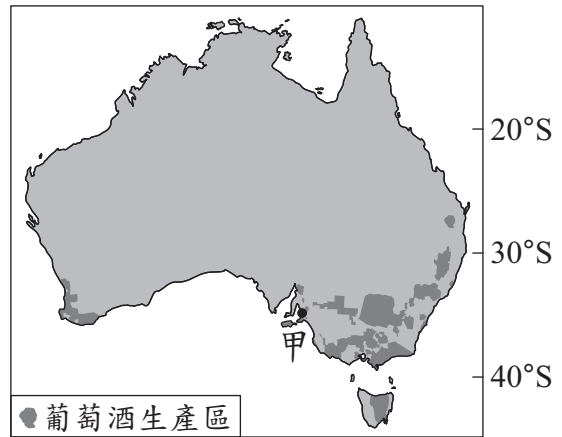
表(七)

2017年1月5日	
幣別	兌換價格
1美元	31.97元新臺幣
2018年1月5日	
幣別	兌換價格
1美元	29.55元新臺幣

- (A)美國自臺灣進口的商品漲價  
(B)臺灣出口至美國的商品降價  
(C)美國民眾前往臺灣旅遊的意願提高  
(D)臺灣民眾前往美國旅遊的意願降低

29. 澳大利亞是近年來新興的葡萄酒生產國，圖(九)為其葡萄酒主要生產區的分布，如果臺灣的酒商在1月分到甲地洽談酒品採購事宜，在當地最可能遇到的天氣狀況為何？


- (A)炎熱乾燥  
(B)溫暖多雨  
(C)寒風細雨  
(D)寒冷乾燥



圖(九)

30. 山坡地因地勢影響，引河水不易，常以農塘蓄水灌溉。農塘是以築壩或開挖的方式，將地表逕流蓄存後，作為提供農業用水的一種設施。近年來農委會為了改善農塘的功能，針對塘底淤積清除、滲漏問題處理及緩坡植草等項目，提供農民補助。上述補助所欲達到的效益，除了增加坡地農塘儲水量外，最可能包括下列何者？

- (A)滯留洪水以減緩下游洪患  
(B)降低地表水分蒸發及蒸散量  
(C)提高來自鄰近水庫的灌溉用水量  
(D)增加河口泥沙堆積防止海岸侵蝕

 地表逕流：未滲入到地下而在地面上流動的水。

31. 「在印度有一頂級的旅館，位於全國最大的野生動物和老虎保育區的國家公園旁，全旅館僅由14頂帳篷組成。受限於自然條件的關係，只在限定的時間營業，進入不宜旅遊的季節，便將帳篷一一拆卸後收藏，直至較舒適的時節來臨，才又再度搭起營帳，迎接新一批旅客的到來。」根據上述，下列哪些月分最可能都是該旅館的營業時間？

- (A)3至5月  
(B)6至8月  
(C)9至10月  
(D)11至隔年2月

32. 圖(十)是某時期上海報刊上所刊載的時事報導，此一報導最可能是在描繪下列何時的情景？

- (A)十六世紀前期  
(B)十七世紀後期  
(C)十八世紀前期  
(D)十九世紀後期



一名日本軍官在本地去世，送葬隊伍由百餘名日本軍人吹奏哀樂，引導運棺馬車緩緩而行，最後則是由海軍將領和日本領事隨行。隊伍經過英國租界，往墓地而去。

圖(十)



33. 下列是某一則新聞報導：

小斌將限量款高級自行車借給17歲的阿德騎去環島，阿德卻不慎將車撞毀，所幸沒有波及他人，事發後雙方自行簽訂高額賠償契約。不過阿德的父母得知後反對這份契約，於是阿德事後反悔不願依約賠償，小斌因此告上法院要求阿德履行契約，但法官以該契約無效為由，判決小斌敗訴。

關於上述報導內容，下列哪一項推論最合理？

- (A)二人簽訂的契約因為違反公共秩序而無效  
(B)阿德應負的法律責任與遭警察開罰單相同  
(C)小斌敗訴的原因是阿德為限制行為能力人  
(D)小斌不服判決可以再向行政法院提出上訴
34. 根據我國法律規定，電影片、電影片的廣告片非經中央主管機關審議區分影片級別並核准者，不得映演，其中部分規定如下：

電影片、電影片之廣告片有下列情形之一，列為限制級。未滿十八歲之人不得觀賞。

- 一、描述吸毒、販毒、搶劫、綁架、殺人或其他犯罪行為情節細密，有誘發模仿之虞者。  
二、有恐怖、血腥、暴力、變態等情節且表現方式強烈，十八歲以上之人尚可接受者。  
三、以動作、影像、語言、文字、對白、聲音表現出強烈之性表現或性暗示，且不致引起十八歲以上之人羞恥或厭惡者。

上述規定與下列我國何項規定的立法精神最類似？

- (A)雇主沒有特殊理由不得限制求職者的性別  
(B)雇主不得安排童工從事繁重及危險的工作  
(C)未滿法定年齡與不符法定資格者不得參與投票  
(D)未經明文規定為犯罪的行為國家不得處以刑罰

35. 表(八)為旅行社提供的甲、乙行程資訊，若大福、小獅、大樂、小星四人自行來回機場皆須花費1,500元，根據表中內容判斷，下列哪一項消費行為的主要考量最不可能是價格因素？

表(八)

行程	甲	乙
出發日期	7月25日	7月20日
費用	34,000元	36,000元
優惠方案	6月25日前報名 折價1,000元	6月20日前報名 折價2,000元
交通	自行來回機場	免費機場接送


- (A)大福：於6月27日報名甲行程，而非乙行程  
(B)小獅：於6月24日報名甲行程，而非乙行程  
(C)大樂：於6月21日報名乙行程，而非甲行程  
(D)小星：於6月18日報名乙行程，而非甲行程

36. 我國立法院、監察院二院分別與司法院於特定事項的處理上有先後順序，當立法院與監察院做出某些決定後，即交由司法院接續下一步的工作。表(九)為立法院與監察院的部分職權內容，其中哪些職權的行使符合上述關係？

表(九)

中央機關	職權內容
立法院	(甲)提出《憲法》修正案
	(乙)提出總統、副總統彈劾案
監察院	(丙)糾正行政機關不當施政
	(丁)彈劾違法公務人員

- (A)甲、丙  
(B)甲、丁  
(C)乙、丙  
(D)乙、丁
37. 有一首流行歌曲是這樣唱的：「你引擎日本來，韓德魯德國來；玻璃自南非來，阿拉伯石油來；塑膠是漳州做，車體自美國買，攏乎咱摻摻作夥(都被我們摻在一起)，嘿咻嘿咻，每臺都是臺灣製造。」上述歌詞所描寫的情況，與下列何者最相關？
- (A)基於人道關懷的國際援助計畫  
(B)全球化影響下的國際貿易互動  
(C)國際組織致力降低各國貿易障礙  
(D)大型跨國企業主導全球文化發展

 韓德魯：指汽車方向盤。

38. 地名不僅具有標示定位的作用，更可忠實呈現地方風貌、地形特徵、宗族源流等各種事項。表(十)為小樺整理的地名命名緣由，則「甲」處應填入下列何者？
- (A)方位  
(B)屯墾  
(C)宗族  
(D)原鄉

表(十)

命名緣由	地名
地形	大「湖」、蘇「澳」
動物	「山豬」窟、「鹿」寮
原住民	「噶瑪蘭」、「新「社」
甲	前「鎮」、新「營」

39. 「西元七世紀，伊斯蘭勢力在此地崛起，之後不斷的向外擴張，使得曾受波斯與羅馬文化影響的地區，在習俗、哲學、法律、政治體系上，開始與伊斯蘭文化相互揉合。」上文中的「此地」，最可能是圖(十一)中甲、乙、丙、丁何地？



圖(十一)

- (A)甲  
(B)乙  
(C)丙  
(D)丁

40. 表(十一)是我國在民國105至108年間，國人結婚對數統計的部分資料。根據表中資料呈現的訊息，下列何項說法最適當？

表(十一)

民國(年)	總計結婚對數(對)	不同性別(對)	相同性別(對)	
			男性	女性
105	148,349	148,349	0	0
106	137,620	137,620	0	0
107	135,322	135,322	0	0
108	133,741	130,797	931	2,013

- (A)民眾的結婚意願因結婚須辦理登記而降低  
 (B)民眾對不同性傾向者的性別刻板印象加深  
 (C)我國已立法保障相同生理性別間的婚姻權利  
 (D)我國人口組成的性別失衡現象已經有所改善
41. 有份資料提到：「臺灣銀行最初設置目的是使臺灣在財經上能保持獨立，除了提供臺灣各種產業資金，以利資源開發，也是發行鈔票的機構。後來，更成為政府對中國、南洋貿易和經濟擴張的後盾，所以臺灣銀行被稱為『萬能銀行』。」上述情況最可能出現在下列何時？  
 (A)臺灣開港通商之際                      (B)劉銘傳在臺建設時  
 (C)臺灣民主國成立時                      (D)日本統治臺灣期間

42. 某稻農因應外在環境的衝擊，而依據表(十二)的調查分析，改變其耕作與經營模式，以提升獲利。上述現象反映出農業發展的何種特色？

表(十二)

養生穀物消費調查	
消費族群分析	消費者偏好分析
1.年齡：	1.品種：
2.性別：	2.口感：
3.職業：	3.營養價值：
4. ....	4.價格：
	5. ....

43. 歐洲某國家的國名原意為「平原之地」，反映該國主要地形特徵，但也因缺乏天然屏障，曾為強鄰占領、瓜分的對象。該國應是指圖(十二)中何者？  
 (A)甲  
 (B)乙  
 (C)丙  
 (D)丁



圖(十二)

二、題組：(44~54題)

閱讀下列選文，回答第44至46題：

蘭姆酒是古巴的名產之一，因味道濃烈而受到歡迎。蘭姆酒為當地發展熱帶栽培業時，使用某種經濟作物的副產品製作而成。這種經濟作物也曾經普遍種植於臺灣南部平原地帶。回溯這種經濟作物在古巴的發展，與西班牙的殖民有關。當時西班牙為了栽培經濟作物與挖掘礦產，需要大量勞力，但原住民因感染外來傳染病而大量死亡，遂引入非洲黑人填補勞動力的空缺。今日古巴的人口結構，以白人為主，具有黑人血統者，約占全國人口比例三分之一，而原住民已經相當少見。

二十世紀時，有人將蘭姆酒和源於美國的可樂調製成「自由古巴」，如圖(十三)所示。此調酒的命名有個歷史性的傳說，象徵美國支持十九世紀古巴獨立運動。當時美國政壇對古巴獨立運動曾做出評論：「關於任何歐洲國家對美洲的入侵，美國有權進行干預，使歐洲勢力撤離。西班牙政府正失去對古巴的控制，且無力保護當地美國公民的生命和財產，因此美國政府應介入使當地恢復和平，並確保古巴獲得獨立。」



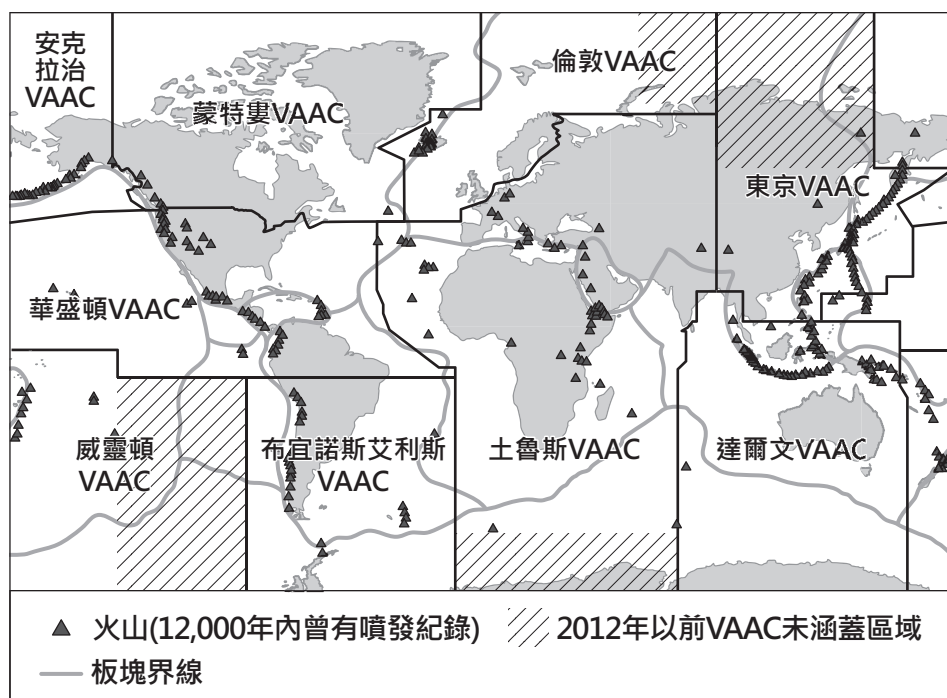
由蘭姆酒、可樂、冰塊、檸檬片等調配而成的「自由古巴」。

圖(十三)

44. 根據上文，蘭姆酒最可能是由下列何種作物的副產品製作而成？
- (A)茶葉
  - (B)稻米
  - (C)橄欖
  - (D)甘蔗
45. 上文提到人口結構的變遷，與下列歐洲的何項史事關係最為密切？
- (A)科學革命
  - (B)海外擴張
  - (C)文藝復興
  - (D)啟蒙運動
46. 上文中關於美國政壇支持古巴的言論，最可能援引了下列何者的概念？
- (A)門羅宣言
  - (B)政教合一
  - (C)共產主義
  - (D)三權分立

閱讀下列選文，回答第47至48題：

聯合國國際民航組織於1990年代陸續成立各區域的火山灰諮詢中心(VAAC)，目的是為了避免飛機受到火山灰影響而導致飛航事故。目前全球有9個火山灰諮詢中心，負責範圍如圖(十四)所示。當某一中心負責範圍內的火山噴發時，該中心須立即整合火山灰擴散的相關資訊，發出警告以提醒飛行員避開火山灰影響的區域。例如2018年印尼的阿貢火山噴發，附近區域的航班及機場都收到了警告，紛紛採取關閉機場或取消航班等應變措施。



圖(十四)

47. 文末提及的2018年火山灰警告，應為下列哪一個火山灰諮詢中心所發出？
- (A)東京火山灰諮詢中心
  - (B)倫敦火山灰諮詢中心
  - (C)華盛頓火山灰諮詢中心
  - (D)達爾文火山灰諮詢中心
48. 根據圖(十四)資訊判斷，其中的 ▨ 區域最可能具有下列何種特徵？
- (A)火山數量相對較少
  - (B)位處颱風易生成區
  - (C)氣候嚴寒航線稀少
  - (D)遠離板塊交界地帶

閱讀下列選文，回答第49至51題：

海洋塑膠垃圾是近年全世界關注的重要議題，塑膠垃圾不僅會污染環境，崩解後形成的塑膠微粒還會影響海洋生物，進而危害人類的安全與健康。2018年5月，黑潮海洋文教基金會執行「島航計畫」，從花蓮港出發開船繞行臺灣一圈，進行周邊海域海漂垃圾及塑膠微粒的調查，同時希望藉此號召民眾重視海洋環境。

該基金會在整理檢測數據後公布調查報告，結果顯示海漂垃圾幾乎無所不在，其中以目視方式發現最多垃圾量的地點，位於地形主要為岬、灣相間的海岸地帶，估計數量每平方公里將近2,000件；而塑膠微粒的調查結果則顯示全部測點皆存在塑膠微粒，測得數量最多的測點位於八掌溪出海口附近，每立方公尺約存在64顆塑膠微粒。

有學者表示這樣的調查行動相當重要，除了可以發現問題之外，進一步分析長期的調查資料，還可能追溯到問題成因，或可用來評估政策的有效性，例如臺南市的自治條例規定禁用保麗龍飲料杯，在依法對違規業者開罰後，保麗龍飲料杯出現在附近沙灘上的數量明顯減少，此即顯示該項規定有助於處理問題。因此，政府應投入更多資源持續進行海洋調查研究，深入了解海洋污染問題，以作為相關政策制定與評估的參考。

49. 文中以目視方式發現最多海漂垃圾數量的地點，最可能位於圖(十五)中甲、乙、丙、丁哪一段海岸附近？

- (A)甲
- (B)乙
- (C)丙
- (D)丁



圖(十五)

50. 關於文中所提到臺南市的例子，下列何項敘述最適當？

- (A)由立法院制定法律對違規者處以行政處分
- (B)由立法院制定法律對違規者處以刑事處罰
- (C)由地方立法機關訂定規定對違規者處以行政處分
- (D)由地方立法機關訂定規定對違規者處以刑事處罰

51. 文中所述調查行動的主要目的，最可能是下列何者？

- (A)督促政府打擊海上犯罪行為
- (B)呼籲業者減少海洋遊憩活動
- (C)促進社會關心海洋永續發展
- (D)確保領海範圍漁民捕撈權益

閱讀下列選文，回答第52至54題：

琉球因與臺灣的地理位置接近，彼此時有互動。1870年代，琉球王國居民因船難漂流至臺灣，不幸被殺害，日本藉機出兵臺灣，形成國際外交事件，影響了清帝國對臺灣治理政策。後來日本併吞琉球，改制為沖繩縣，並因甲午戰爭取得臺灣，琉球與臺灣兩地往來更加密切，有些琉球人因工作來臺定居。

第二次世界大戰結束後，居住在臺灣的琉球人陸續遭遣返回國，而琉球則是在戰後初期由戰勝國管理。戰後初期仍有許多琉球人在臺灣活動，這些琉球人當中，部分遭逢因查緝私菸所引發的社會動盪，被鎮壓群眾的軍隊押走，從此下落不明。

52. 上文提到該事件的發生「影響了清帝國對臺灣治理政策」，最可能是下列何者？
- (A)劃定「番界」，隔離漢人與原住民
  - (B)開放港口通商，允許洋行建立據點
  - (C)積極治理臺灣，開山撫番鼓勵墾殖
  - (D)設置對渡口岸，在指定的港口貿易
53. 根據上文，琉球在第二次世界大戰結束後，先交由下列哪一國家管理？
- (A)德國
  - (B)美國
  - (C)日本
  - (D)義大利
54. 上文所述的社會動盪，最可能是下列何者？
- (A)雷震事件
  - (B)二二八事件
  - (C)八二三砲戰
  - (D)美麗島事件