

財團法人大學入學考試中心基金會
112學年度分科測驗試題
公民與社會考科

請於考試開始鈴響起，在答題卷簽名欄位以正楷簽全名

—作答注意事項—

考試時間：80分鐘

作答方式：

- 選擇題用 2B 鉛筆在「答題卷」上作答；更正時以橡皮擦擦拭，切勿使用修正帶（液）。
- 除題目另有規定外，非選擇題用筆尖較粗之黑色墨水的筆在「答題卷」上作答；更正時，可以使用修正帶（液）。
- 考生須依上述規定劃記或作答，若未依規定而導致答案難以辨識或評閱時，恐將影響成績。
- 答題卷每人一張，不得要求增補。

選擇題計分方式：

- 單選題：每題有 n 個選項，其中只有一個是正確或最適當的選項。各題答對者，得該題的分數；答錯、未作答或劃記多於一個選項者，該題以零分計算。
- 多選題：每題有 n 個選項，其中至少有一個是正確的選項。各題之選項獨立判定，所有選項均答對者，得該題全部的分數；答錯 k 個選項者，得該題 $\frac{n-2k}{n}$ 的分數；但得分低於零分或所有選項均未作答者，該題以零分計算。

第壹部分、選擇題（占66分）

一、單選題（占60分）

說明：第1題至第30題，每題2分。

- D
1. 某研究指出，與過去相較，男性願意承擔家務勞動的比例明顯上升；然而，雙薪家庭裡，女性仍是家務勞動的主要貢獻者。多數女性期待均等分工，但僅有薪資高的女性得以如願。根據上述發現，從關切性別平權的角度，下列推論何者最適切？
(A)人的精力有限，故市場勞動貢獻越多者越無法對家務勞動有貢獻
(B)職場的性別平等雖已充分落實，但家庭領域的性別平等仍待加強
(C)男性的性別平權意識已有顯著提升，但女性卻仍然受限於傳統觀念之束縛
(D)性平觀念雖普及，但雙薪家庭的市場勞動貢獻仍多立基於女性再生產勞動
 2. 許多人相信學生成績和家長社經地位具正相關。小辛想驗證此說法，因此蒐集周遭同學成績及相關資料，同時加入「補習」及「家長參與子女教育活動」二項因素一併分析，結果如表 1。小辛從表 1 可得到的最合理推論為何？
D

表 1

學生成績依表現分組	補習科目數	家長參與子女教育	家長社經地位
優異	少	積極	高
中上	適中	積極	中
普通	偏多	普通	高
不佳	多	很少	低

- A
- (A)不論家長社經地位為何，補習越多越能提升學生的成績表現
(B)家長對子女教育活動的參與，對子女學業成績影響相當有限
(C)家長社經地位較高，會促使其子女學業成績表現也較為優異
(D)高社經地位的家長若較少參與子女教育活動仍不利子女學業
 3. 某國針對 30 歲以上受調查者的受教育年數、職業聲望，及其家長的職業聲望進行調查，結果如圖 1 和圖 2（縱軸數值愈高，表示職業聲望愈高）。依據二圖，對該國社會成員的地位取得，下列哪項推論最適切？

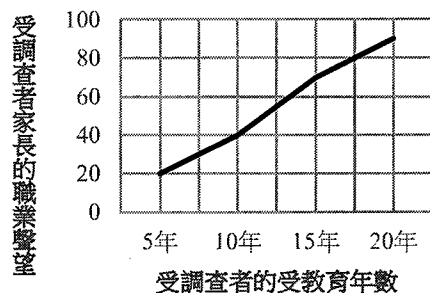


圖 1

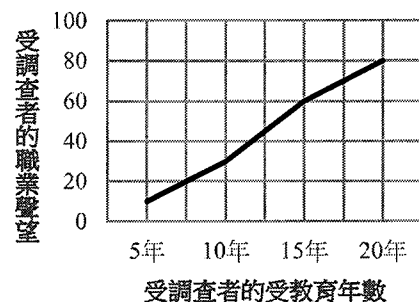


圖 2

- (A)家庭傳承給個人的社會階層位置不易改變
(B)子承父業現象普遍意味教育投入並無成效
(C)教育有效幫助低社經地位成員的向上流動
(D)國民平均教育提高使得整體社會地位上升

- C 4. 古巴在 2022 年實施新版「家庭法」，不論同性伴侶與異性伴侶皆可締結婚姻，成為第一個同性婚姻合法化的共產國家。從我國憲法基本權利角度，該法落實的人權，與下列哪項社會運動訴求的人權屬性最接近？
- (A)多國女性串連訴求女性公開自身的受性騷擾經驗
(B)臺灣社會運動團體訴求的居住正義以及房市改革
(C)美國抗議警察針對黑人暴力執法所爭取的權利保障
(D)臺灣原住民族運動所爭取的土地正義與諮商同意權
- C 5. 某日發生殺人案，警方經調查後召開破案記者會，指出有充分證據顯示甲應為兇手，並在回答媒體問題時，說明甲的姓名、家庭狀況等個資。記者根據警方提供的個人資料，報導甲家人的新聞，之後甲被起訴，並經法院判決有罪確定。對於本案中警方與記者的行為，下列評論哪項最適切？
- (A)因法院判決有罪，警方洩漏個資行為並未違反偵查不公開原則
(B)破案記者會的時間在起訴前，故警方並未違反偵查不公開原則
(C)警方提供記者與公益無關之嫌疑人個資，違反偵查不公開原則
(D)記者報導甲家人的相關新聞，其行為明顯違反偵查不公開原則
- A 6. 圖 3 是房東甲（房屋所有權人）和房客乙的對話。依據對話內容，從民法債權和物權的特性分析，下列敘述何者正確？

- (A)租約到期後，甲得請求乙返還房屋
(B)甲將房屋出租，即喪失房屋所有權
(C)乙積欠租金，侵害甲的租金所有權
(D)丙為新承租人，可要求乙搬離甲屋

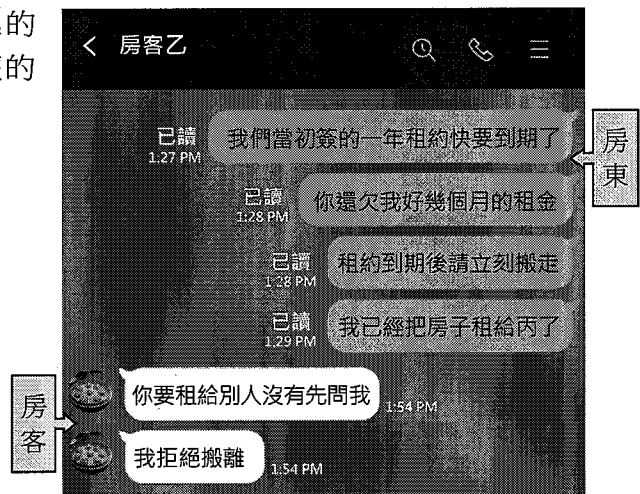


圖 3

- B 7. 根據記載，春秋時期的齊國曾提倡穿綈服（一種絲、棉混織品），並禁止民眾生產，反而用高於市價的價格自魯、梁兩國進口，魯、梁民眾因而放棄糧食生產，轉而投入生產綈服。一年後，齊國突然禁止與魯、梁的貿易，造成兩國糧食價格高漲，導致兩國先後投降齊國。從社會福祉的角度分析，下列哪種人民的損失是促使兩國投降的主因？
- (A)生產糧食的生產者剩餘 (B)購買糧食的消費者剩餘
(C)生產綈服的生產者剩餘 (D)購買綈服的消費者剩餘
- D 8. 某地區網路服務市場原本共有六家廠商，今年經併購後減少為四家。在不考慮其他條件下，前述變動對該地區廠商聯合漲價難易度的影響，下列哪項分析最合理？
- (A)因彼此競爭激烈，消費者容易找到替代品，提升聯合漲價的難度
(B)因網路使用便利性提高，吸引更多人使用，提升聯合漲價的難度
(C)用戶共享網路服務，使廠商營運成本降低，更容易形成聯合漲價
(D)競爭家數減少，廠商為了獲取更高的利潤，更容易形成聯合漲價

9-10為題組

- ◎ 阿米希人(Amish)是 200 多年前因為受到宗教迫害而由瑞士遷移到美國的一群清教徒。他們信仰堅定，自力更生，自己辦學，反對暴力，相信上帝的權柄而不透過政府的公權力來解決爭端，更認為社群與家庭凝聚力是維持信仰的根基。此社群拒絕現代設施，過著 19 世紀般的儉樸生活。有學者指出，阿米希人不接受現代文明，認為新事物會影響家族團結或使生活變複雜，更認為電力會導致對物質的過度追求，拒絕使用彰顯身分的商品以避免人們的相互競爭。請問：
9. 依據這位學者的判斷，阿米希人不使用電力及彰顯身分的商品，主要是為了避免造成下列何種概念所描述的現象？
- A (A)文化位階 (B)環境衝擊 (C)刻板印象 (D)階級複製
10. 若欲對阿米希人表示尊重，並平等對待其信仰與特殊的社區生活，下列敘述何者最符合多元文化主義的主張？
- B (A)禁止觀光客參訪該社區，避免其與不同文化交流互動
(B)保障社群信念，以法律免除其接受學校體制國民教育
(C)推廣其符合自然生態的農業知識，達到永續發展理想
(D)鼓勵學術界踴躍研究阿米希社群，以保障其文化傳承

11-12為題組

- ◎ 16 歲學生甲涉嫌性侵害，新聞報導後，群情激憤；有人找出甲的個資公布在網路上，從而該市警察局要求刪文。乙明知甲並非高官丙的小孩，卻在網路上指稱「甲是丙的小孩，因而丙下令警察要求網友刪文」，也號召群眾到丙住家抗議；抗議過程中，乙誤將丙珍愛的花瓶打碎。丙因乙侵害其名譽並破壞花瓶，向法院提起訴訟。請問：
11. 從人權保障的觀點，評論本案與甲有關的情節，下列敘述何者最適切？
- B (A)警察局為維護甲的隱私要求刪文，無須法律依據
(B)甲如遭判刑確定，該項犯罪紀錄未來應加以塗銷
(C)為揭弊而揭露甲的個資，並未侵犯甲之隱私權利
(D)隱私應受保障，但因甲自身違法，無法要求賠償
12. 題文中丙提起之訴訟，依據我國現行法律，下列主張或請求何者正確？
- A (A)丙可訴請法院，請法院判決除去其名譽所受侵害
(B)因名譽權屬人格權之損害，丙不可主張損害賠償
(C)丙因花瓶受損，可向乙請求相關財產損害之補償
(D)因花瓶毀損致精神上損害，丙可向乙請求慰撫金

13-14為題組

- ◎ 某國原住民族部落附近有一重大開發案引發地方議論，該部落成員在報紙投書指出：為落實憲法對人民基本權利之保障，政府單位到部落的公有土地從事開發前，應諮商並取得原住民族或部落的同意或參與。該國某國會議員注意到這則報紙投書，乃針對此開發案的爭議，向主管機關首長提出質詢。請問：

資料來源：得勝者文教

13. 依據題文訊息推論，該國政府體制最可能具有下列哪項特徵？

- A
- (A)立法部門對於行政部門得提出不信任投票
 - (B)立法部門得對各部會首長行使人事同意權
 - (C)國家元首對於立法部門通過的法案擁有否決權
 - (D)國家元首得對立法部門提出中央政府總預算案

14. 從平等原則及人權的觀點檢視該部落成員的投書意見，以下評論何者最適切？

- B
- (A)國家應無差別對待全體國民，故不應該採納其意見
 - (B)為尊重多元文化與原住民族權利，故應該採納其意見
 - (C)為落實保障個別原住民的權利，故應該採納其意見
 - (D)公有地開發應由全民公投決定，故不應採納其意見

15-16為題組

◎ 依據我國法律，經營電信、廣播或電視頻道等媒體需領有國家通訊傳播委員會（NCC）發給有一定年限的經營執照，到期前須申請換照，核准後才能繼續經營。某廣播電台甲申請換照，但 NCC 指出該電台的報導經常與事實不符而遭民眾投訴，且其大股東直接介入新聞製播，顯示該電台內控與自律機制失靈，故在其執照到期後，決議不予換照。甲電台則抨擊該決議侵害新聞自由，因而提起司法救濟；在野黨立委乙則召開記者會，支持甲電台提出司法救濟的行動；輿論也有意見主張監察院應主動介入調查。請問：

15. 題文中 NCC 駁回換照申請的理由，與下列哪項主張最接近？

- D
- (A)大眾未必具有媒體識讀能力，需要政府適時介入以確保人民知的權利
 - (B)基於黨政軍退出媒體的理念，媒體對新聞事件的評論應保持中立立場
 - (C)媒體惡性競爭可能造成劣幣驅逐良幣，政府介入是保障新聞自由的必要之惡
 - (D)媒體的守門過程可能遭受不當干擾且違反專業倫理，新聞自由不應無限上綱

16. 在下列何種情況下，憲法法庭得依法受理本案？

- C
- (A)甲於行政訴願遭駁回後隨即聲請憲法法庭判決
 - (B)乙以個人的名義聲請憲法法庭對該案進行審查
 - (C)負責審理甲案件的法院聲請憲法法庭進行判決
 - (D)監察院主動向憲法法庭聲請審查法規是否違憲

17-19為題組

◎ 冷戰結束後的數十年間，跨國企業曾無需擔心地緣政治因素，在全球拓展商業。然而，近日有學者撰文指出，全球正劃分為二個互相競爭的集團，一個由西方領導，另一個由中國領導，跨國企業不能再忽視地緣政治。另一項調查報告則指出，跨國公司管理階層憂心與不憂心中國及其鄰近區域政治風險的比例，已經從 2021 年的 2：1，提升至目前的 20：1。不少跨國公司對於依賴中國製造及銷售的情況感到不安，也認為依照中國當前的政治特性，目前唯一可以預測的就是它的不可預測性，因而計劃將部分製造、供應鏈和銷售轉移到更友善的國家。請問：

資料來源：得勝者文教

17. 依據題文，跨國公司所指的中國當前之不可預測性，其根源最可能為下列何者？
D (A)以黨領政導致政府效率不彰 (B)立法機關缺乏專業和自主權
(C)共產主義抗拒自由市場體制 (D)權力愈趨集中於個人與專斷
18. 依據題文資訊，若要探究國際政治變動是否如該學者所言，下列哪項資料最具有佐證力？
B (A)聯合國大會以壓倒性票數通過譴責俄羅斯吞併烏克蘭領土，中國則棄權
(B)中國提出南海島礁主權爭議由其與各聲索國雙邊談判解決，美國則反對
(C)美國嚴格管制對中國出口半導體技術及設備，以防止中國獲得先進技術
(D)美國發布國家安全戰略，指出中國已有力量來實現重塑國際秩序的目標
19. 依據題文推論，跨國公司的轉移計畫對於中國當年度勞動市場薪資的影響，最可能是下列何者？
B (A)工廠外移減緩景氣動能，降低求職者尋職誘因進而薪資下滑
(B)工廠外移減少跨國企業的工作職缺，不利於薪資上漲的態勢
(C)銷售轉移導致民眾增加購買國貨，推升勞動供給與薪資上漲
(D)銷售轉移帶動企業投資，釋放職缺並帶動勞動供給推升薪資

註：聲索國是指聲明索取某地區領土主權的國家。

20-22為題組

- ◎ 我國房屋市場的「預售屋」是指尚未開始動工或正在施工，而預先銷售的房屋。有的建商在預售屋銷售時，打出不實廣告，藉此促銷，例如：有建商在廣告文宣中呈現「空中景觀泳池」的意象，但實為無景觀之一般泳池；另外，也有建商為營造購屋熱潮，形成預期心理，哄抬建案價格，喊出「本案即將完銷」，但實際上該建案還有多戶未售出。也有投資客看準購屋者的預期心理，搶先簽訂預售屋買賣契約，俗稱紅單，而後換約轉售紅單，進行預售屋炒作，政府因而修改相關法律條文，規定預售屋買賣契約禁止讓與或轉售。請問：
20. 針對題文中建商的行為，下列論點何者合乎我國現行民法與相關法規範？
B (A)若無脅迫他人買賣房屋，政府基於契約自由無法介入
(B)政府可透過消保法或公平交易法管制建商的泳池廣告
(C)刊登廣告係為勸說消費者購買，內容雖誇大並不違法
(D)泳池廣告不屬契約的一部分，依法不得拘束買賣雙方
21. 題文中的建商，欲以不實廣告營造銷售熱潮來使預售屋價格上漲的作法，其涉及的經濟學供需概念，與下列何者最相似？
B (A)產糧大國發生戰爭無法出口，使得國際糧價大漲
(B)政府研擬調升菸酒稅率，紅標米酒價格應聲上漲
(C)提高基本工資帶動薪資上揚，廠商漲價反映成本
(D)數位相機銷售長紅，帶動相機記憶卡的價格上漲
22. 其他條件不變下，預售屋新規定實施後，對預售屋市場價格最可能造成下列哪項影響？
C (A)健全預售屋市場吸引更多新建商，拉高預售屋價格
(B)紅單更為稀有反而吸引買家搶進，拉高預售屋價格
(C)炒作市場消失投資客卻步不進場，壓低預售屋價格
(D)打消建商推出預售屋案件的念頭，壓低預售屋價格

23-26為題組

◎ 某國因科技進步與基本工資調升，無人商店的比例持續上升。有人商店和無人商店的差別在於前者多了人事成本，而後者多了科技設備成本。兩者都需要裝修店面和進貨，其中購買科技設備和裝修店面的支出需向銀行貸款。某公司一年前曾評估有人商店與無人商店的選擇，發現尚不適合開設無人商店，但今年公司經過評估，認為已可開設無人商店。

不過，無人商店也引發政策論辯，以致該國某些地方政府雖容許無人商店的設置，但某些地方政府為避免失業問題惡化而立法禁止設置無人商店。此外，因該國無人商店趨勢而找不到工作者，多屬經濟處境不利群體，雖然他們想工作，但常到處碰壁，心灰意冷之下放棄找工作。輿論因而主張政府應提撥經費落實社會安全體制，以減少社會變遷帶來的衝擊；各界也提出三種不同方案：（甲）增列就業保險之失業給付、（乙）增加職業訓練生活津貼經費分配，以及（丙）增列社會救助經費。請問：

23. 該國各地對於是否許可無人商店設置不一致的現象，與下列哪項政治制度因素最有關聯？

- A (A)憲法或法律明文保障地方政府自治權限 (B)中央政府制定法規須諮詢地方政府意見
(C)地方行政首長由地方人民直接選舉產生 (D)地方人民得對地方民意代表提出罷免案

24. 關於可能影響開設無人商店與有人商店的因素，下列哪項因素最有利於促成該公司決定在今年開設無人商店？

- C (A)關係企業協助降低店面裝修與進貨成本
(B)預期中央銀行下半年採取寬鬆貨幣政策
(C)基本工資的調升造成一年前員工人事成本大幅成長
(D)未來原物料成本漲幅和緩，降低科技設備投入成本

25. 題文中經濟處境不利群體的困境對失業率與勞動參與率的影響，下列敘述何者正確？

- A (A)降低失業率，降低勞動參與率 (B)降低失業率，提高勞動參與率
(C)提高失業率，降低勞動參與率 (D)提高失業率，提高勞動參與率

26. 若從不同社會安全制度的屬性或成效來分析甲、乙、丙三項方案，下列評論何者最適切？

- C (A)國家有責任解決低收入戶的急難困境，故甲方案經費必須增加
(B)乙方案可提升就業者競爭力，但屬教育支出而非社會安全預算
(C)丙方案雖非針對所有失業者，但社會變遷可能讓給付對象變多致經費須增加
(D)三方案皆為促進就業以解決大規模失業的有效政策，國家應考量成本而擇一

27-30為題組

◎ 某民主國家為舉辦國際級運動會，決定在首都興建全新的大型主場館，場館預定地內的一座社會住宅因而須強制拆除。該社宅的居民大多是高齡人士，且該國政府並未提出合宜的安置計畫，許多居民因而拒絕搬遷。當地市政府為迫使居民遷出，未經法律授權即切斷社宅的自來水供應。此外，興建全新大型主場館消耗過多政府預算，導致出現嚴重赤字；而某連鎖商店預期國際旅客湧入，大量開設新店面而推升店面租金，致使傳統小型店家經營困難。

這些事件引發該國民眾強烈不滿；某團體為表達不滿，在通勤尖峰時間，發動數次讓大眾運輸無法運作的抗議行動，許多民眾因而無法上班、上學或回家。另外，國際賽事期間電視和網路媒體轉播的高收視率，抬高當地電視媒體廣告費用，也使得國內廠商行銷部門怨聲載道。請問：

資料來源：得勝者文教

27. 該國際運動賽事辦理過程的社會住宅拆遷爭議，若以社會階層化的觀點而言，與下列哪個情境最接近？
- C (A)某社區因人口外流與高齡化，商店街爆發倒閉潮，失業者發動集體抗議
(B)某老舊眷村面臨文資保存議題，市政府未取得住戶共識即強行拆除屋舍
(C)某捷運預定路線將行經貧民區，未先與該地的居民溝通便著手進行施作
(D)某地區因鄰近機場故承受起降噪音與其他限制，卻未獲政府發予回饋金
28. 當地市政府促使社會住宅居民遷出所採取的作為，從法治國原則的角度來看，下列敘述何者正確？
- C (A)該作為屬於給付行政，因此只要未違反信賴保護即屬合法
(B)政府作為應追求公益，斷水措施是實現該公益的最佳手段
(C)該作為侵害個人權利屬干涉行政，因而違反法律保留原則
(D)興建主場館帶來公益大於人民損失，政府未違反比例原則
29. 題文所描述之該國際賽事引發的現象及其影響，何者最能以外部成本的概念來解釋？
- B (A)嚴重的預算赤字對政府的影響 (B)尖峰時間阻礙交通對通勤者的影響
(C)連鎖商店對傳統小店家的影響 (D)電視媒體高收視對國內廠商的影響
30. 依據題文，若要進一步探究該團體的抗議行動是否構成公民不服從，下列何者是最關鍵的判斷要件？
- C (A)抗議手段無其他有效替代方案 (B)行動明顯反對政府的既定政策
(C)抗議者願意承擔相關法律責任 (D)行動獲得全國民眾支持的程度

二、多選題（占6分）

說明：第31題至第33題，每題2分。

31. 晚近，許多國家除落實勞工受基本勞動條件保障外，亦進一步保障勞工人能積極與雇主討論及商議勞動關係的權利。某國若亦欲推動後者，應立法落實下列哪些權利？
- BD (A)確保獲得最低薪資 (B)得組織並加入工會
(C)確保勞動環境的安全 (D)得集體行動表達抗議
(E)不得要求連續超時工作
32. 某學者分析社會運動運用網路動員的情形，提出觀察如下：
- ACD 甲、原住民族運動在網路上並不活躍，少數存在的網站多由非原民夥伴建立及維護。
乙、傳統婦運團體多形成實體社群，年輕婦運者則多以網路組織社群；這導致婦運內部在某些議題上分裂。
丙、同志社運積極運用網路，更受惠於網路的匿名性，藉此提高找到倡議夥伴的可能性。
- 依據上述觀察，以下哪些推論正確？
- (A)社運團體的世代差異會導致不同的動員策略
(B)歷史愈久的社運，內部對議題的歧見便愈大
(C)網路匿名性改善承受汙名群體的社運動員力
(D)各社運的屬性不同，但皆試圖透過網路倡議
(E)非原民的協助讓原民得以發聲並彰顯主體性

33. 甲、乙、丙三國的國會議員選舉採行不同選舉制度，這三種制度亦存在於我國中央與地方民意代表選舉中。表 2 是這三國最近一次國會選舉的資料，依據該表，關於這三國選舉制度的運作，下列哪些推論合理？

AC

(A) 甲國小黨候選人在選舉中當選的機會低於乙丙兩國

(B) 乙國候選人必須在選區中獲得最高票始有機會當選

(C) 丙國各政黨得票與席次率的吻合程度高於甲乙兩國

(D) 甲乙兩國各政黨之間的選舉競爭程度明顯低於丙國

(E) 甲乙丙的選舉制度皆具有女性保障名額的制度設計

表 2

	甲國	乙國	丙國
全國應選名額	200	250	300
全國參選人數	600	500	1,500
選區數目	200	100	1
女性當選人數	100	125	150
無黨籍當選人數	8	35	0

第貳部分、混合題或非選擇題（占34分）

說明：本部分共有 4 題組，單選題每題 2 分，非選擇題配分標於題末。限在答題卷標示題號的作答區內作答。選擇題與「非選擇題作圖部分」使用 2B 鉛筆作答，更正時以橡皮擦擦拭，切勿使用修正帶（液）。非選擇題請由左而右橫式書寫，並依題目指示作答。

34-35為題組

◎ 以下四段摘要，出自某國一份公民會議實施狀況的研究報告：

甲、受到政策影響的公民，應有相同權利和有效機會來表達其觀點和利益，以形成共識。

乙、某些社會群體的成員即使進入公共審議的場域，也常因發言訴諸個人經驗或無法清楚提出論點，而引起聽者的不耐與忽視。

丙、女性或低教育程度者發言次數較少，發言時間較短，不常在對話過程質疑或批評他人，也較難以引導議題討論。

丁、兩性在不同爭議議題公民會議的參與情形：

議題	參與的人數 (百分比)		發言的次數 (百分比)		意見成為共識的數量 (百分比)	
	女	男	女	男	女	男
通姦除罪	9 (45)	11 (55)	75 (24)	238 (76)	10 (37)	17 (63)
代理孕母	12 (60)	8 (40)	87 (42.4)	118 (57.6)	18 (34.6)	34 (65.4)

34. 綜合上述四段摘要內容，該研究報告的主題最可能為下列何者？

D

(A) 性別化的爭議議題討論：以公民會議為例 (B) 不同議題對於兩性在公民會議參與的影響

(C) 公民會議參與歷程及影響意見發言的因素 (D) 公民會議過程的言說互動及其不平等樣貌

35. 綜合上述四段摘要，最能凸顯哪兩項應該實踐或強化的審議民主要件？請依據題文歸納出兩項要件，並在答題卷作答。（6分；每項各10字內）

應該實踐或強化的審議民主要件（各10字內）	
要件一	
要件二	

資料來源：得勝者文教

36-37為題組

◎ 小華與小明為兄妹，父親生前未立遺囑，但留下遺產甲、乙兩棟房屋，以及甲地，此外別無其他遺產。遺產由小華、小明兩人共同繼承，因雙方未達成分配遺產之協議，經法院判決，小華分到臨道路的甲地及甲屋，小明則分到乙屋。雙方因積怨甚深，小華惡意在甲地搭起鐵皮圍籬(參見圖 4)，目的在阻擋乙屋的對外通行。小明乃告上法院要求小華拆除，後來法院判決小明勝訴。請問：

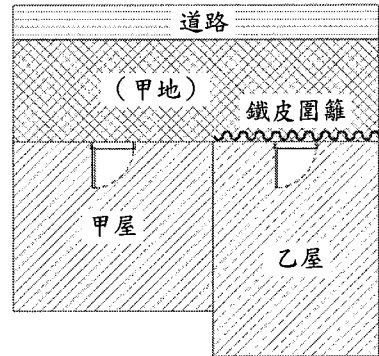


圖 4

36. 依據題文描述及現行民法規定，下列哪項分析正確？

D

- (A) 小華與小明並沒有任何其他親屬
- (B) 小華取得之遺產侵害小明特留分
- (C) 小華與小明父親的配偶仍然在世
- (D) 小華與小明兩人的應繼分應相同

37. 依據題文資訊，法官判決小明勝訴，最可能是依據何種原理原則？理由為何？請在答題卷表格左欄勾選一項，再於右欄依據此原則說明法官判決小明勝訴之理由。(5分，30字內；左欄未勾選或勾選錯誤，則本題不計分)

原理原則	說明該判決之理由(30字內)
<input type="checkbox"/> 信賴保護 <input type="checkbox"/> 特別犧牲 <input type="checkbox"/> 禁止權利濫用 <input type="checkbox"/> 所有權絕對性	

38-39為題組

- ◎ 圖 5 為 2017 年全球四個區域的比較資料，分別為：
- I、各區域 GDP 占全球比例(依 PPP 指數轉成美元)；
 - II、各區域 GDP 占全球比例(依匯率轉成美元)；
 - III、各區域人口占全球比例。

某學生閱讀資料後，認為東亞及亞太人民的生活水準高於中東及北非，但老師卻認為剛好相反，並指出該生依據的資料組合不適合用來判斷人民生活水準的高低，而是應該依據其他的資料組合。請問：

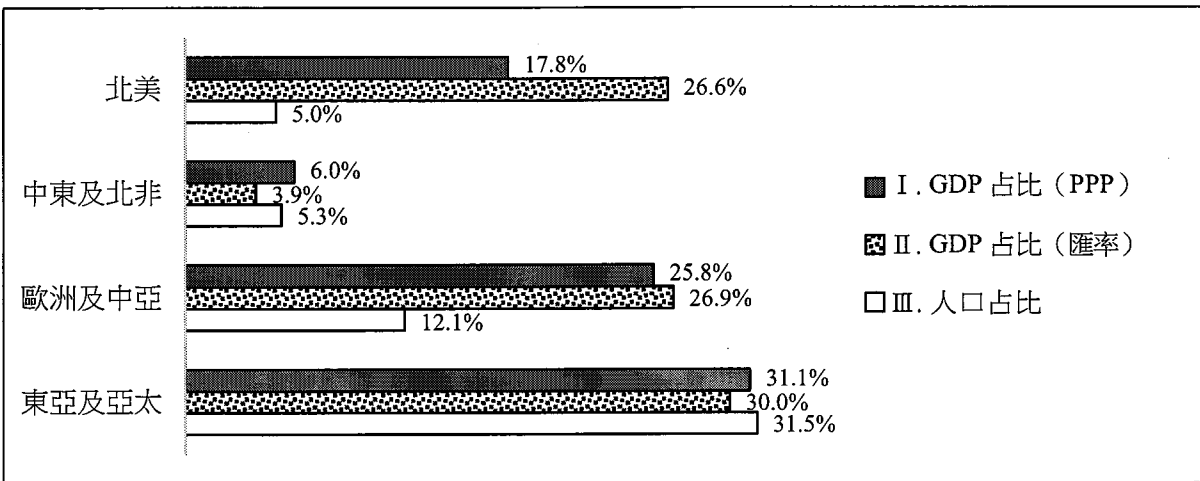


圖 5

38. 若僅根據圖 5 資訊比較「歐洲及中亞」與「北美」整體物價水準的差異，結合供需架構和物價相關知識，下列推論何者最合理？

- C
- (A) 歐洲及中亞因較多人口刺激消費使物價水準高於北美
 - (B) 歐洲及中亞因較高所得刺激消費使物價水準高於北美
 - (C) 北美央行執行較多寬鬆貨幣政策而使物價水準高於歐洲及中亞
 - (D) 北美央行出售較多債券或定期存單使物價水準高於歐洲及中亞

39. 依據圖 5，該生與老師最可能分別依據哪些資料？與老師依據的資料相較，該生依據的資料不適合之原因為何？請在答題卷表格中的左欄勾選該生所依據的資料，於中欄勾選老師所依據的資料，最後在右欄說明該生所依據的資料較不適合之原因。（6 分；右欄 25 字內；左欄和中欄任一欄未勾選或勾選錯誤，則右欄不給分）

該生依據的資料	老師依據的資料	該生所依據資料較不適合的原因（25 字內）
<input type="checkbox"/> I, II	<input type="checkbox"/> I, II	
<input type="checkbox"/> I, III	<input type="checkbox"/> I, III	
<input type="checkbox"/> II, III	<input type="checkbox"/> II, III	

40-43 為題組

◎ 我國某市立音樂廳需要整修，基於身心障礙者權利公約（CRPD）的要求，民間團體主張應增加身障座位，但也有反對聲浪。正反意見彙整如下：

反對意見	支持意見
在廳內增加身障座位需拆除 20 個座位，會產生拆除與增建的施工成本，也會有未來每場表演的門票損失。	整建雖需付出成本，但建構友善身障者的環境，讓城市更具包容性，將帶來促進人權保障、落實文化權等看不見的效益。

市政府也接獲以下三項整修方案建議：

甲：考慮音樂廳是歷史古蹟，故將身障座位設於廳外的大廳空間，再於表演時同步轉播內部音樂會，並提供各項聆賞必要的免費支持服務。

乙：重新規劃廳內動線與座位安排，在不同區域皆設置身障座位，讓身障者依個人需求挑選不同票價的座位，並讓其選擇所需的手語或口述影像等服務。

丙：考慮緊急應變措施，將身障座位安排在廳內第一排或邊緣位置，以確保身障者安全，並避免影響出入動線造成逃生受阻；另外應提供障礙者及陪同者購票半價優惠。

在與各界交換意見後，市政府確立以「障礙者文化平權」做為整修原則，並決定採取某方案，因該方案最符合 CRPD 之「共融模式」的兩項原則：

- I、確保障礙者如所有人一般平等參與社會生活的權利，提高障礙者與非障礙者互動的可能性。
- II、尊重障礙者的自主選擇，不將障礙者弱化為需要被保護的對象。

請問：

40. 依據 CRPD 與我國法之關係來評論題文中主管機關之作為，下列何者最適當？

- A
- (A) 因公約已經國內法化，主管機關作為符合依法行政
 - (B) 未經國際專家審查，主管機關即做出決策故屬違法
 - (C) 因公約具有命令位階，政府仍應遵守相關公約內容
 - (D) 因公約內容未違反既有法規，政府可做為施政參考

資料來源：得勝者文教

41. 若僅根據表格中的正反意見，對於是否增加身障座位的評估，應針對下列哪組成本效益進行比較？

C

- (A) 「身障座位門票收入」與「拆除原本座位成本」
- (B) 「身障座位門票收入」與「增建身障座位成本」
- (C) 「看不見的效益」與「施工成本加上門票損失」
- (D) 「看不見的效益加上門票收入」與「施工成本」

42. 依據題文資訊及民主治理的核心概念，該音樂廳整修方案的決策歷程，與下列哪項公共參與案例最相似？

D

- (A) 縣市政府與律師公會合作，提供身心障礙者免費法律諮詢服務
- (B) 縣市長候選人徵詢民間團體意見，再提出無障礙福利政策政見
- (C) 立法院接受民間團體遊說，修法納入身心障礙者個人協助服務
- (D) 教育部召開公聽會，規劃全國校園整體無障礙環境的相關指引

43. 根據題文，市政府採用的方案應為何者？該方案的作法及其分別呼應的共融模式原則為何？請在答題卷表格左欄先勾選一項方案；其次，依據題文於中欄寫出該方案的三項作法，並在右欄勾選每項作法呼應的原則。（5分；左欄未勾選或勾選錯誤，則本題不計分）

勾選一項方案	寫出該方案之三項作法（每項 10 字內）		勾選作法呼應之原則
<input type="checkbox"/> 甲	作法一		<input type="checkbox"/> I 或 <input type="checkbox"/> II
<input type="checkbox"/> 乙	作法二		<input type="checkbox"/> I 或 <input type="checkbox"/> II
<input type="checkbox"/> 丙	作法三		<input type="checkbox"/> I 或 <input type="checkbox"/> II

財團法人大學入學考試中心基金會

112 學年度分科測驗

公民與社會考科

答題卷

應試號碼、條碼、姓名(不得污損、塗改或破壞)

確認答題卷應試號碼與姓名正確無誤

確認後 考生簽名	請用正楷簽全名
-------------	---------

※考試開始鈴響起，經確認確為本人之應試號碼與姓名後，於「確認後考生簽名」欄以正楷簽全名。使用備用答題卷者，請務必於「確認後考生簽名」欄簽全名。※請詳閱試題本上作答注意事項與答題卷劃記及書寫注意事項。

※選擇題正確作答樣例： A B C D

第壹部分、選擇題(占 66 分)

注意：考生如未能劃滿方格，或不依試題本之作答注意事項劃記致機器無法正確辨識答案時，恐將影響成績。

1	A	B	C	D	E		26	A	B	C	D	E
2	A	B	C	D	E		27	A	B	C	D	E
3	A	B	C	D	E		28	A	B	C	D	E
4	A	B	C	D	E		29	A	B	C	D	E
5	A	B	C	D	E		30	A	B	C	D	E
6	A	B	C	D	E		31	A	B	C	D	E
7	A	B	C	D	E		32	A	B	C	D	E
8	A	B	C	D	E		33	A	B	C	D	E
9	A	B	C	D	E							
10	A	B	C	D	E							
11	A	B	C	D	E							
12	A	B	C	D	E							
13	A	B	C	D	E							
14	A	B	C	D	E							
15	A	B	C	D	E							
16	A	B	C	D	E							
17	A	B	C	D	E							
18	A	B	C	D	E							
19	A	B	C	D	E							
20	A	B	C	D	E							
21	A	B	C	D	E							
22	A	B	C	D	E							
23	A	B	C	D	E							
24	A	B	C	D	E							
25	A	B	C	D	E							

第貳部分、混合題或非選擇題(占 34 分)

題號 作答區
注意：1.應依據題號順序，於作答區內作答。2.除另有規定外，書寫時應由左至右橫式書寫。3.作答須清晰，若未依規定而導致答案難以辨識或評閱時，恐將影響成績。4.不得於作答區書寫姓名、應試號碼或無關之文字、圖案符號等。

34	A <input type="checkbox"/> B <input type="checkbox"/> C <input type="checkbox"/> D <input checked="" type="checkbox"/>	【請用 2B 鉛筆作答】	
35	【請用黑色墨水的筆作答】		
	應該實踐或強化的審議民主要件(各 10 字內)		
	要件一	平等的發言權 10	
	要件二	議題討論的深化 10	
36	A <input type="checkbox"/> B <input type="checkbox"/> C <input type="checkbox"/> D <input checked="" type="checkbox"/>	【請用 2B 鉛筆作答】	
	【請用黑色墨水的筆作答】		
	原理原則	說明該判決之理由(30 字內)	
	<input type="checkbox"/> 信賴保護 <input type="checkbox"/> 特別犧牲 <input checked="" type="checkbox"/> 禁止權利濫用 <input type="checkbox"/> 所有權絕對性	小華惡意阻擋乙屋的對 外通行，濫用其對甲地 的所有權。 10 20 30	
38	A <input type="checkbox"/> B <input type="checkbox"/> C <input checked="" type="checkbox"/> D <input type="checkbox"/>	【請用 2B 鉛筆作答】	
	【請用黑色墨水的筆作答】		
	該生依據的資料	老師依據的資料	該生所依據資料較不適合的原因(25 字內)
	<input checked="" type="checkbox"/> I, II <input type="checkbox"/> I, III <input type="checkbox"/> II, III	<input type="checkbox"/> I, II <input checked="" type="checkbox"/> I, III <input type="checkbox"/> II, III	該生未考慮人口占比， 人均 GDP 和 PPP 較能反映實 質生活水準 10 20 25

題號 **作答區**
 注意：1.應依據題號順序，於作答區內作答。2.除另有規定外，書寫時應由左至右橫式書寫。3.作答須清晰，若未依規定而導致答案難以辨識或評閱時，恐將影響成績。4.不得於作答區書寫姓名、應試號碼或無關之文字、圖案符號等。

- 40 A B C D **【請用 2B 鉛筆作答】**
- 41 A B C D **【請用 2B 鉛筆作答】**
- 42 A B C D **【請用 2B 鉛筆作答】**

【請用黑色墨水的筆作答】

勾選一項方案	寫出該方案之三項作法（每項 10 字內）		勾選作法呼應之原則
43 <input type="checkbox"/> 甲 <input checked="" type="checkbox"/> 乙 <input type="checkbox"/> 丙	作法一	各區皆設置身障座位 10	<input checked="" type="checkbox"/> I 或 <input type="checkbox"/> II
	作法二	可挑選不同價位的座位 10	<input type="checkbox"/> I 或 <input checked="" type="checkbox"/> II
	作法三	可選手語或口述影像 10	<input type="checkbox"/> I 或 <input checked="" type="checkbox"/> II

本區為非作答區，禁止書寫或劃記，如有違背，依簡章規定扣分。

本區為非作答區，禁止書寫或劃記，如有違背，依簡章規定扣分。